

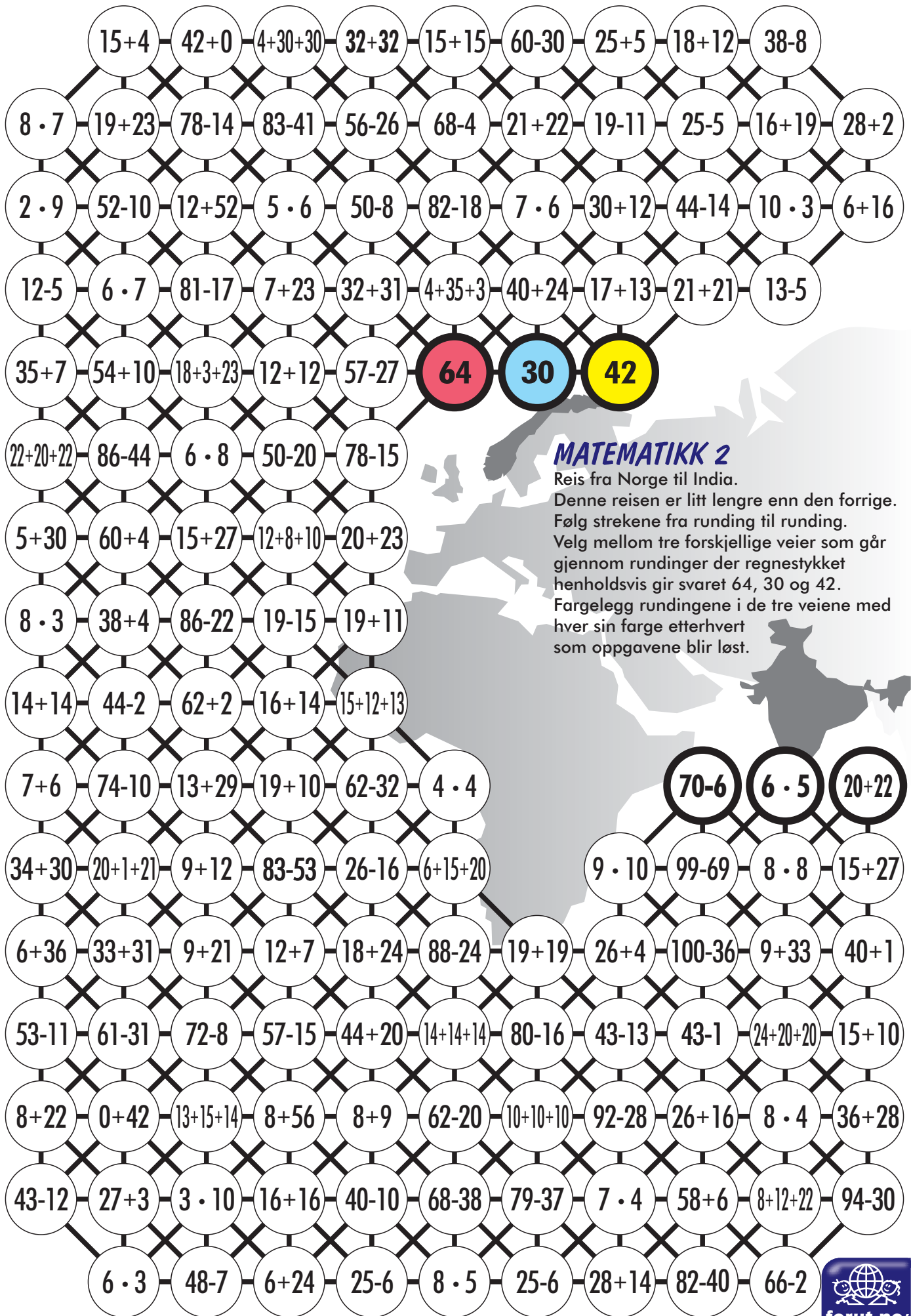
### MATEMATIKK 1

Reis fra Norge til India.

Følg strekene fra runding til runding.

Velg mellom tre forskjellige veier som går gjennom rundinger der regnestykket henholdsvis gir svaret 64, 30 og 42.

Fargelegg rundingene i de tre veiene med hver sin farge etterhvert som oppgavene blir løst.



## MATEMATIKK 2

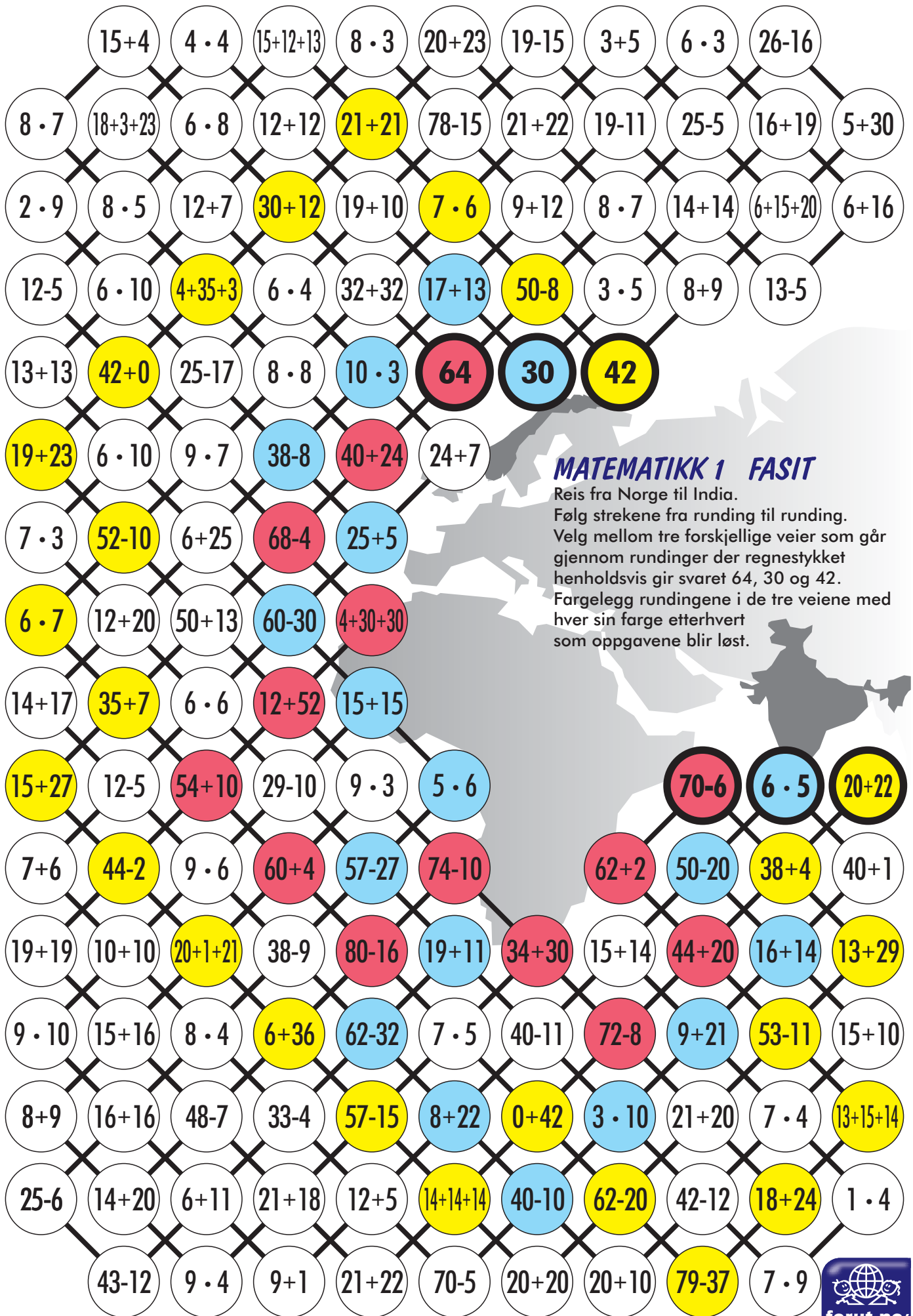
Reis fra Norge til India.

Denne reisen er litt lengre enn den forrige.

Følg strekene fra runding til runding.

Velg mellom tre forskjellige veier som går gjennom rundinger der regnestykket henholdsvis gir svaret 64, 30 og 42.

Fargelegg rundingene i de tre veiene med hver sin farge etterhvert som oppgavene blir løst.



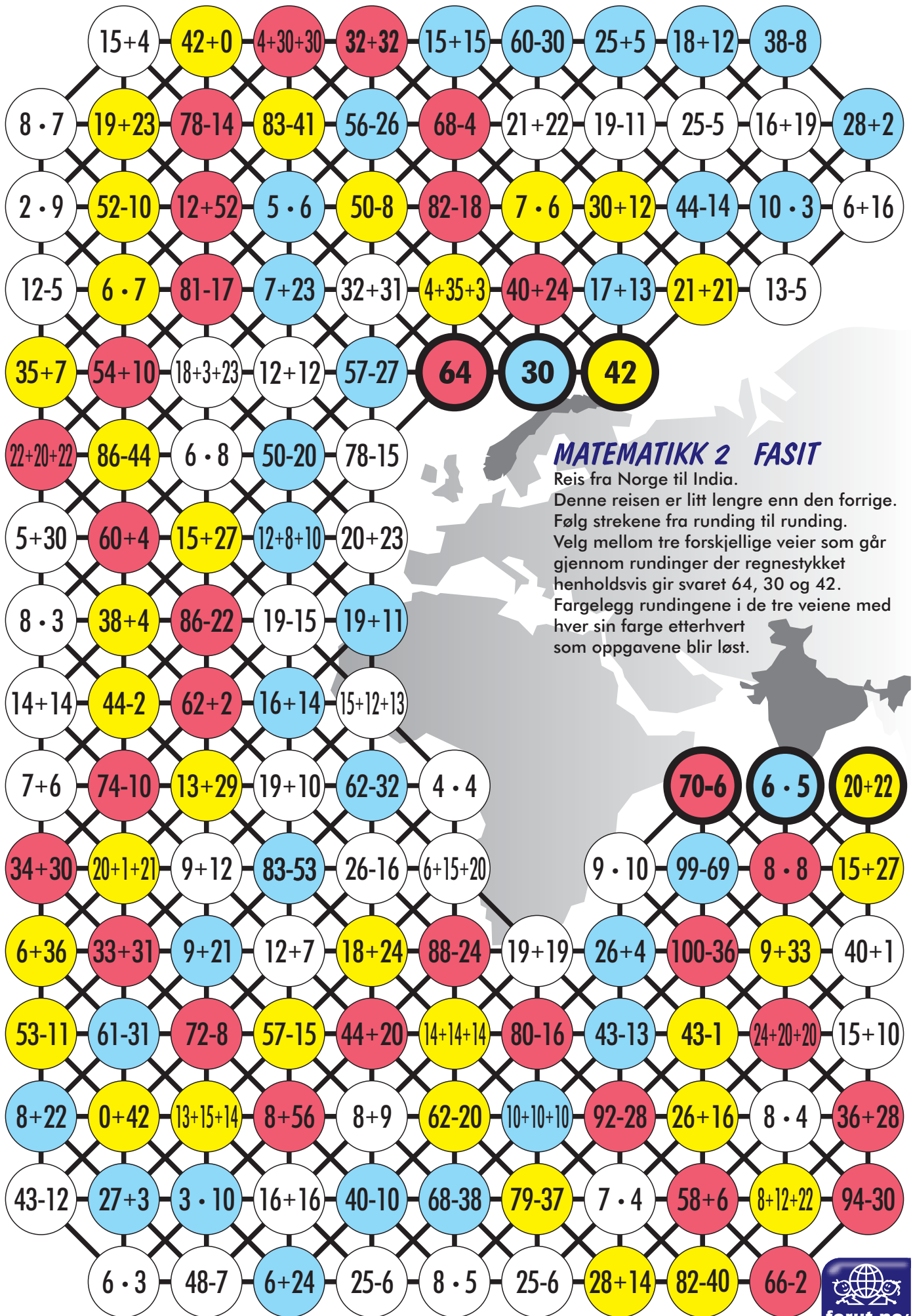
## MATEMATIKK 1 FASIT

Reis fra Norge til India.

Følg strekene fra runding til runding.

Velg mellom tre forskjellige veier som går gjennom rundinger der regnestykket henholdsvis gir svaret 64, 30 og 42.

Fargelegg rundingene i de tre veiene med hver sin farge etterhvert som oppgavene blir løst.



## MATEMATIKK 2 FASIT

Reis fra Norge til India.

Denne reisen er litt lengre enn den forrige.

Følg strekene fra runding til runding.

Velg mellom tre forskjellige veier som går gjennom rundinger der regnestykket henholdsvis gir svaret 64, 30 og 42.

Fargelegg rundingene i de tre veiene med hver sin farge etterhvert som oppgavene blir løst.



## MATEMATIKK

Her kan dere lage nye veier fra Norge til India med egne oppgaver på samme måten som på de foregående sidene.